

## CE1 Mathématiques

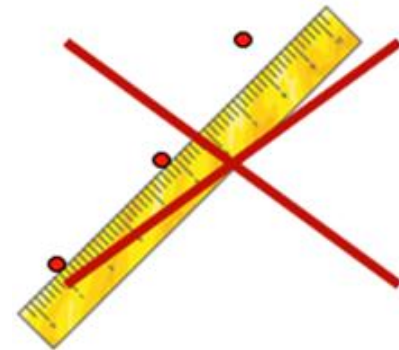
## Repérer des alignements

Un point indique  
une position.

**Repérer  
des alignements**

Des points sont  
alignés quand ils  
se trouvent sur  
la même droite

A  
X



## Repérer des alignements

Le point indique une position. Il est représenté par un rond ou une croix. Il est nommé par une lettre majuscule.

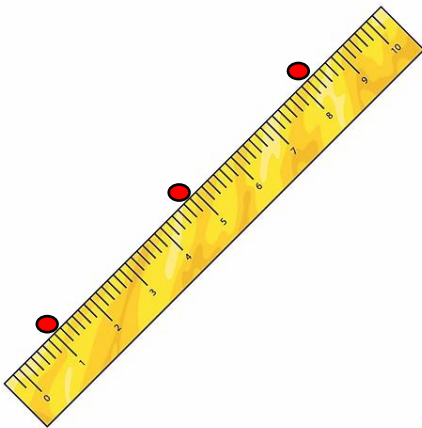
A  
●

A  
×

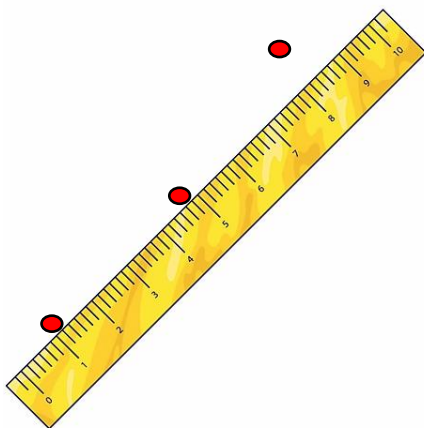
Pour savoir si des points sont alignés, utilise ta règle.



Des points sont alignés quand ils se trouvent tous sur une même droite.



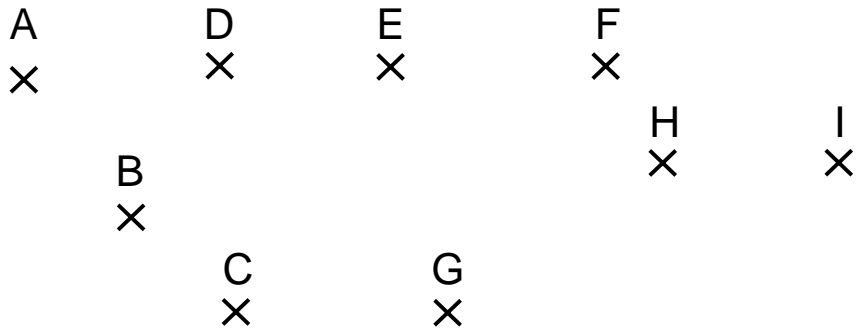
**Les points sont alignés.**



**Les points ne sont pas alignés.**

**Je m'exerce :**

**Exercice 1 :** Complète le tableau en cochant les cases exactes :

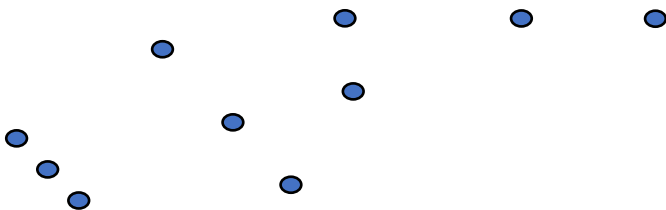


Les points sont alignés	oui	non
ABC		
DEF		
GHI		

**Exercice 2 :** Dessine deux autres points. Ils doivent tous être alignés :

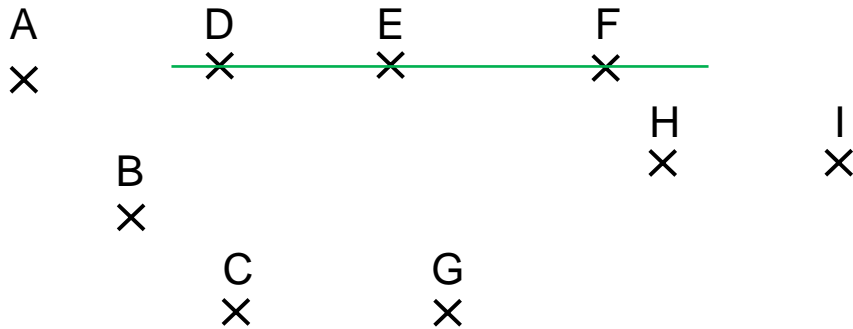


**Exercice 3 :** Cherche les points alignés. Il y a quatre solutions :



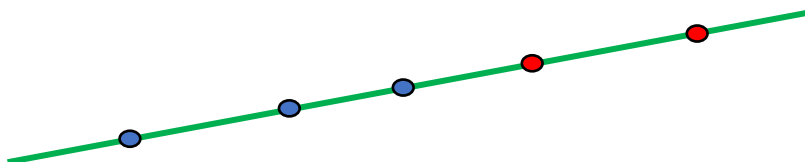
**Les corrections :**

**Exercice 1 :** Complète le tableau en cochant les cases exactes :



Les points sont alignés	oui	non
ABC		X
DEF	X	
GHI		X

**Exercice 2 :** Dessine deux autres points. Ils doivent tous être alignés :



**Exercice 3 :** Cherche les points alignés. Il y a quatre solutions :

